 03100498	 Junio - 2012	Geografía (F.E.)		
		PRUEBA DE ACCESO A LA UNIVERSIDAD		
		Duración: 90min.		MODELO 10
				Hoja: 1 de 2

MODELO: "10"

INSTRUCCIONES GENERALES

El alumno realizará sólo una de las dos opciones propuestas (A o B).
El alumno no podrá utilizar ningún material.
Criterios generales de evaluación:
- En el tema se valorará: el desarrollo teórico, la capacidad de organización y la de síntesis
- En las definiciones: la claridad, la precisión y la brevedad
- En la práctica: el alumno realizará el análisis e interpretación del gráfico o mapa de forma sucinta, siguiendo el esquema que se le proponga o su propio criterio sino se le indica otra cosa.
Criterios específicos de corrección:
La puntuación final será el resultado de la media de los cuatro apartados. Cada uno de éstos se valorará sobre diez (10). Se tendrá muy en cuenta la ortografía, la corrección sintáctica y la presentación del examen.

OPCIÓN A

1. Tema: "La actividad ganadera en España".

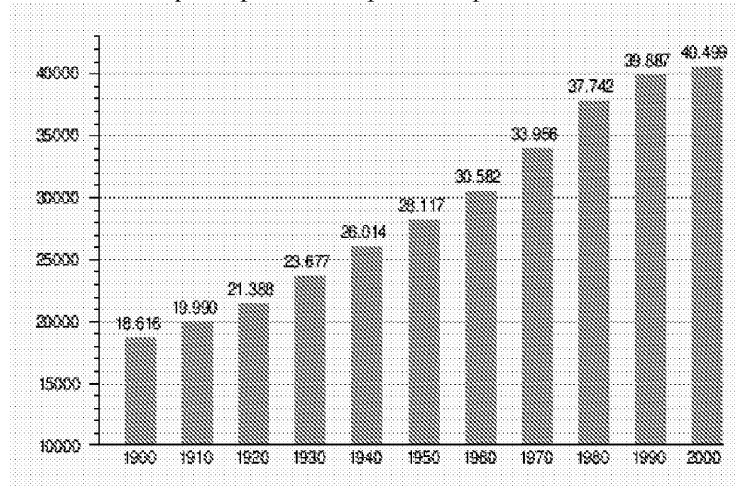
2. **Definición de términos geográficos.** Defina brevemente los siguientes términos: "Acuífero", "solsticio", "cluse", "Padrón municipal de habitantes", "holding".


3. **Preguntas breves.**

- Los nuevos usos del espacio rural en España.
- Principales riesgos naturales de origen geológico en España.

4. **Prueba de localización, lectura e interpretación de documentos.**

Comente el siguiente gráfico sobre la evolución de la población española entre 1900 y 2000, teniendo en cuenta que la población aparece expresada en miles de habitantes.



 03100498		Geografía (F.E.)		
		PRUEBA DE ACCESO A LA UNIVERSIDAD		
	Junio - 2012	Duración: 90min.		MODELO 10
				Hoja: 2 de 2

OPCIÓN B

1. Tema: “El relieve de la Península”.

2. Definición de términos geográficos. Defina brevemente los siguientes términos: “trasvase fluvial”, “área metropolitana”, “rotación terrestre”, “Sotavento”, “Meandro”.

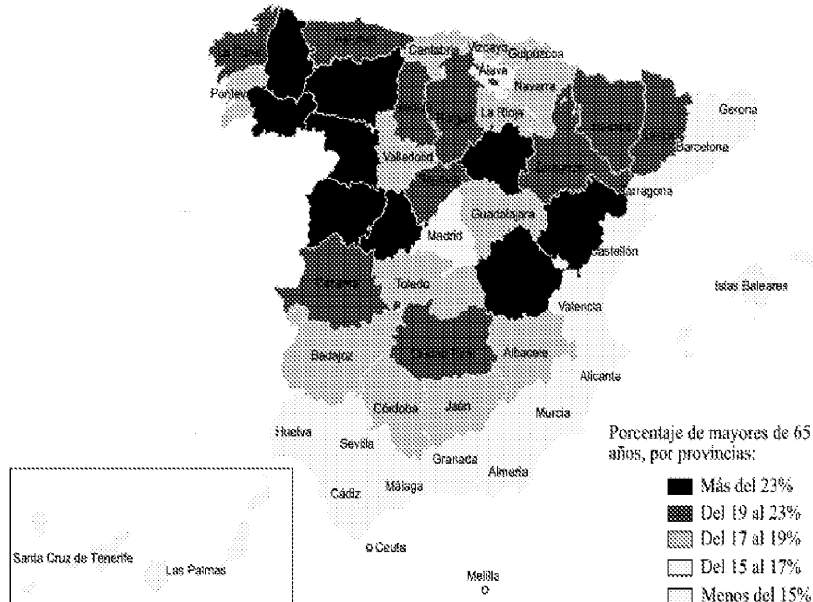
3. Preguntas breves.


- El efecto invernadero.
- Características del poblamiento disperso.

4. Prueba de localización, lectura e interpretación de documentos.

Haga un comentario del mapa adjunto, en el que se ha representado el envejecimiento de la población española por provincias, haciendo especial referencia a las causas y consecuencias de dicha distribución.

ENVEJECIMIENTO DE LA POBLACIÓN ESPAÑOLA (2005)



 03100498		Geografía (F.E.)	
		PRUEBA DE ACCESO A LA UNIVERSIDAD	
	Junio - 2012	Duración: 90min.	MODELO 12
			Hoja: 1 de 2

MODELO: "12"

INSTRUCCIONES GENERALES

El alumno realizará sólo una de las dos opciones propuestas (A o B).
El alumno no podrá utilizar ningún material.
Criterios generales de evaluación:
- En el tema se valorará: el desarrollo teórico, la capacidad de organización y la de síntesis
- En las definiciones: la claridad, la precisión y la brevedad
- En la práctica: el alumno realizará el análisis e interpretación del gráfico o mapa de forma sucinta, siguiendo el esquema que se le proponga o su propio criterio sino se le indica otra cosa.
Criterios específicos de corrección:
La puntuación final será el resultado de la media de los cuatro apartados. Cada uno de éstos se valorará sobre diez (10). Se tendrá muy en cuenta la ortografía, la corrección sintáctica y la presentación del examen.

OPCIÓN A

1. Tema: "La actividad agraria en España".

2. Definición de términos geográficos. Defina brevemente los siguientes términos: "trasvase fluvial", "escala de un mapa", "presión atmosférica", "Padrón municipal de habitantes", "agricultura de subsistencia".

3. Preguntas breves.

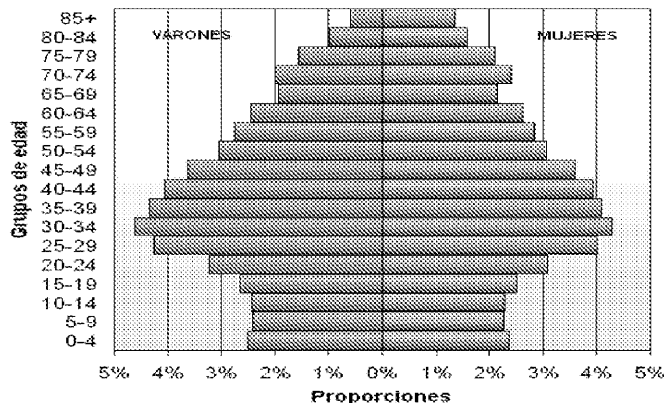
- Repercusiones demográficas del turismo en España
- ¿En qué consiste el efecto föhn o foehn?

4. Prueba de localización, lectura e interpretación de documentos.


La pirámide de población adjunta representa la estructura de la población de España en 2007. Haga un comentario teniendo en cuenta:

- a) estructura por sexo y edad,
- b) ¿qué forma tiene la pirámide?
- c) ¿Cuáles son las causas de la reducción de la base de la pirámide?
- d) ¿Cuál es la tendencia de la población española, al rejuvenecimiento o al envejecimiento?

Pirámide de población de España, año 2007



Fuente: Instituto Nacional de Estadística. Censo a 1 de enero de 2007

 03100498	 Junio - 2012	Geografía (F.E.)	
		PRUEBA DE ACCESO A LA UNIVERSIDAD	
		Duración: 90min.	MODELO 12
			Hoja: 2 de 2

OPCIÓN B

1. Tema: “Los movimientos migratorios actuales en España”.

2. Definición de términos geográficos. Defina brevemente los siguientes términos: “Cartografía”, “Aglomeración urbana”, “Estatuto de Autonomía”, “energía eólica”, “zócalo”.

3. Preguntas breves.

- Tipos de precipitaciones
- Principales riesgos naturales de origen geológico en España.

4. Prueba de localización, lectura e interpretación de documentos.

Cite de forma consecutiva las provincias atravesadas en este recorrido imaginario por España, comenzando en A y terminando en B.



 03100498	 Junio - 2012	Geografía (F.E.)	
		PRUEBA DE ACCESO A LA UNIVERSIDAD	
		Duración: 90min.	MODELO 02
			Hoja: 1 de 2

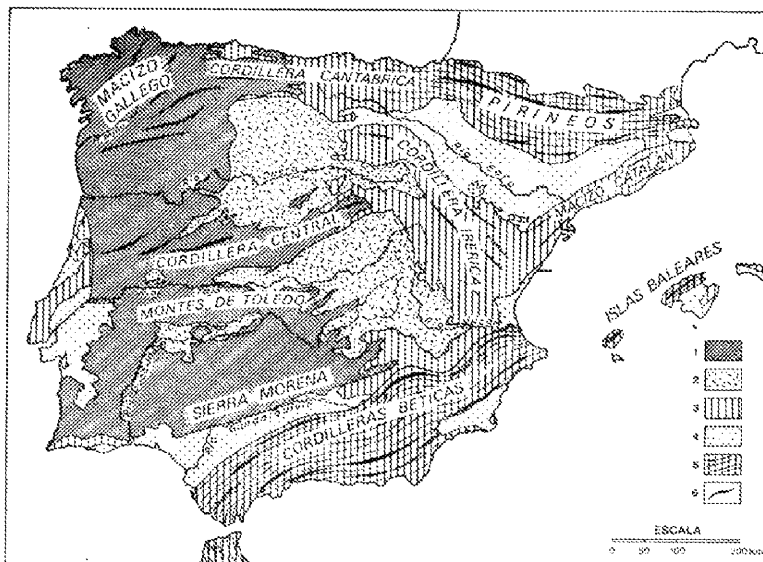
MODELO: "02"

INSTRUCCIONES GENERALES


El alumno realizará sólo una de las dos opciones propuestas (A o B)
El alumno no podrá utilizar ningún material.
Criterios generales de evaluación:
 - En el tema se valorará: el desarrollo teórico, la capacidad de organización y la de síntesis
 - En las definiciones: la claridad, la precisión y la brevedad
 - En la práctica: el alumno realizará el análisis e interpretación del gráfico o mapa de forma sucinta, siguiendo el esquema que se le proponga o su propio criterio sino se le indica otra cosa.
Criterios específicos de corrección:
 La puntuación final será el resultado de la media de los cuatro apartados. Cada uno de éstos se valorará sobre diez (10).
 Se tendrá muy en cuenta la ortografía, la corrección sintáctica y la presentación del examen.

OPCIÓN A

1. Tema: "La industria y los espacios industriales en España"
2. Definición de términos geográficos.
 Defina brevemente los siguientes términos: "Borrasca"; "Penillanura"; "Parque nacional"; "Saldo migratorio" y "Tasa Bruta de Natalidad".
3. Preguntas breves.
 - Principales transformaciones del poblamiento rural en las áreas periurbanas españolas.
 - El efecto foehn o fhön.
4. Prueba de localización, lectura e interpretación de documentos.



Estados tectónicos estructurales de la Península Ibérica. Signos convencionales: 1) macizo hercínico de la Meseta o bloques hespérico; 2) depresiones tectónicas de la Meseta; 3) rebordes alpinos de la Meseta; 4) depresiones periféricas; 5) cordilleras alpinas; 6) alineamientos de las principales alineaciones montañosas.

 03100498	 Junio - 2012	Geografía (F.E.)	
		PRUEBA DE ACCESO A LA UNIVERSIDAD	
		Duración: 90min.	MODELO 02
			Hoja: 2 de 2

Comente el mapa adjunto señalando los rasgos básicos de las principales unidades de relieve de la Península Ibérica en relación a sus características geológicas.

OPCIÓN B

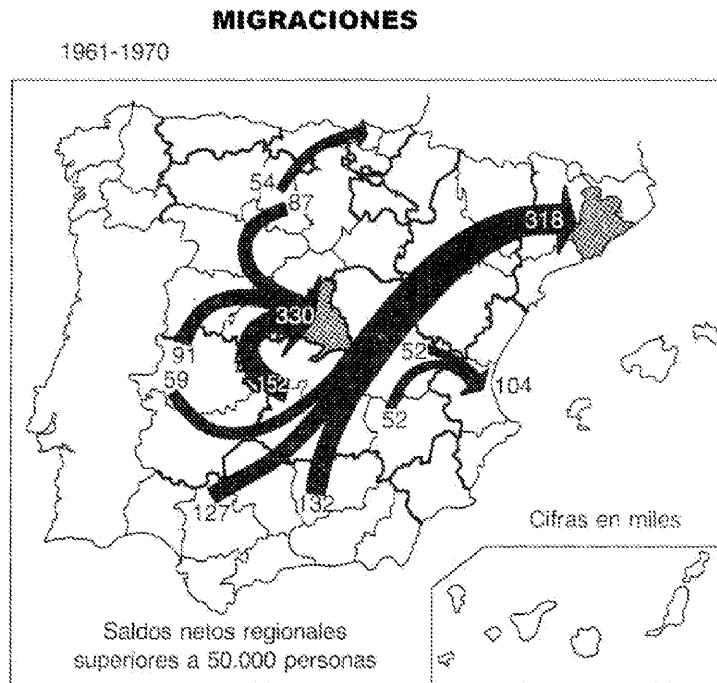
1. Tema: “Los climas de España y su vegetación correspondiente”.

2. Definición de términos geográficos. Defina brevemente los siguientes términos: “erosión”, “modelado glaciar”, “isohipsa”, “latifundio” y “ciudad jardín”


3. Preguntas breves.

- Principales riesgos naturales en España de origen geológico.
- La red de aeropuertos españoles.

4. Prueba de localización, lectura e interpretación de documentos



A la vista del mapa adjunto comente las características de las migraciones interiores españolas en la década de los años sesenta, destacando los principales lugares de destino y los de salida, el volumen y las consecuencias espaciales.

 03100498	 Junio - 2012	Geografía (F.E.)		
		PRUEBA DE ACCESO A LA UNIVERSIDAD		
		Duración: 90min.		MODELO 04
				Hoja: 1 de 2

MODELO: "04"

INSTRUCCIONES GENERALES

El alumno realizará **sólo una** de las dos opciones propuestas (A o B).

El alumno no podrá utilizar ningún material.

Criterios generales de evaluación:

- En el tema se valorará: el desarrollo teórico, la capacidad de organización y la de síntesis

- En las definiciones: la claridad, la precisión y la brevedad

- En la práctica: el alumno realizará el análisis e interpretación del gráfico o mapa de forma sucinta, siguiendo el esquema que se le proponga o su propio criterio sino se le indica otra cosa.

Criterios específicos de corrección:

La puntuación final será el resultado de la media de los cuatro apartados. Cada uno de éstos se valorará sobre diez (10). Se tendrá muy en cuenta la ortografía, la corrección sintáctica y la presentación del examen.

OPCIÓN A

1. Tema: "La terciarización de la economía española".

2. Definición de términos geográficos. Defina brevemente los siguientes términos: "Falla", "movimiento pendular", "Crecimiento natural de la población", "Latifundio", "combe".


3. Preguntas breves.

- Relación entre vientos y presión atmosférica.
- Características del censo como fuente demográfica.

4. Prueba de localización, lectura e interpretación de documentos.

Comente el siguiente mapa de áreas metropolitanas en España, atendiendo a la jerarquía de los principales núcleos urbanos.



 03100498	 Junio - 2012	Geografía (F.E.)		
		PRUEBA DE ACCESO A LA UNIVERSIDAD		
		Duración: 90min.		MODELO 04
				Hoja: 2 de 2

OPCIÓN B

1. Tema: “Las unidades del relieve peninsular”.

2. Definición de términos geográficos.

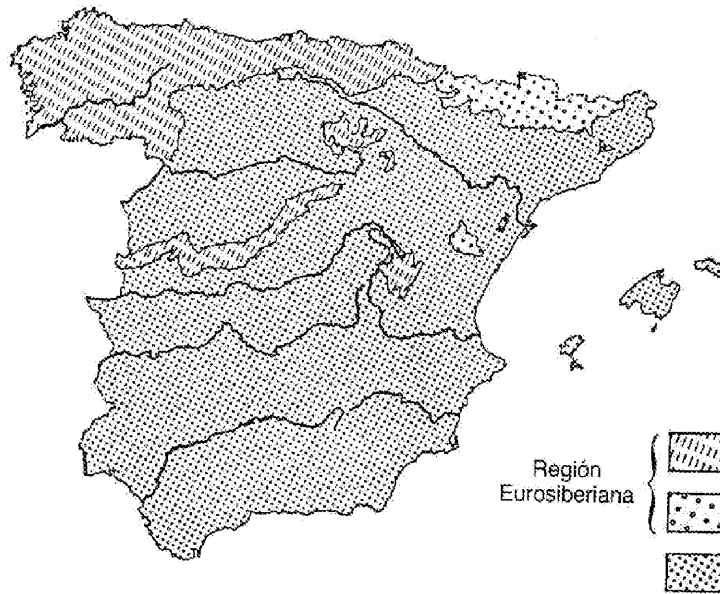
Defina brevemente los siguientes términos: “Emigración”, “Conurbación.”, “Acuífero”, “Falla”, “Gota fría.”.

3. Preguntas breves.


- Diferencias entre ganadería intensiva y extensiva.
- Las áreas turísticas de alta densidad en España.

4. Prueba de localización, lectura e interpretación de documentos.

El mapa representa las grandes divisiones biogeográficas de la Península. Identifica en la leyenda los grandes dominios y describe sus características principales



GRANDES CONJUNTOS BIOGEOGRÁFICOS

 03100498	 Junio - 2012	Geografía (F.E.)		
		PRUEBA DE ACCESO A LA UNIVERSIDAD		
		Duración: 90min.		MODELO 06
				Hoja: 1 de 2

MODELO: "06"

INSTRUCCIONES GENERALES

El alumno realizará sólo una de las dos opciones propuestas (A o B).
El alumno no podrá utilizar ningún material.
Criterios generales de evaluación:
 - En el tema se valorará: el desarrollo teórico, la capacidad de organización y la de síntesis
 - En las definiciones: la claridad, la precisión y la brevedad
 - En la práctica: el alumno realizará el análisis e interpretación del gráfico o mapa de forma sucinta, siguiendo el esquema que se le proponga o su propio criterio sino se le indica otra cosa.
Criterios específicos de corrección:
 La puntuación final será el resultado de la media de los cuatro apartados. Cada uno de éstos se valorará sobre diez (10). Se tendrá muy en cuenta la ortografía, la corrección sintáctica y la presentación del examen.

OPCIÓN A

1. Tema: "La variedad climática de España".

2. Definición de términos geográficos. Defina brevemente los siguientes términos: "anticlinal", "barbecho", "Mapa Topográfico", "Tasa bruta de natalidad", "Balance demográfico".

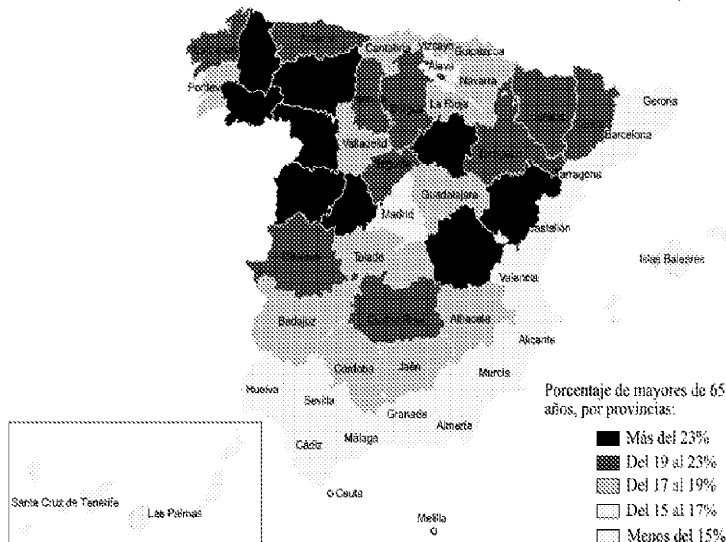
3. Preguntas breves.


- Repercusiones demográficas del turismo en España
- ¿En qué consiste el efecto föhn o foehn?

4. Prueba de localización, lectura e interpretación de documentos.

Haga un comentario del mapa adjunto, en el que se ha representado el envejecimiento de la población española por provincias, haciendo especial referencia a las causas y consecuencias de dicha distribución.

ENVEJECIMIENTO DE LA POBLACIÓN ESPAÑOLA (2005)



 03100498	 Junio - 2012	Geografía (F.E.)		
		PRUEBA DE ACCESO A LA UNIVERSIDAD		
		Duración: 90min.		MODELO 06
				Hoja: 2 de 2

OPCIÓN B

1. Tema: “El relieve de España”.

2. Definición de términos geográficos. Defina brevemente los siguientes términos: “latitud”, “escala de un mapa”, “capa de ozono”, “afluente”, “agricultura intensiva”.

3. Preguntas breves.

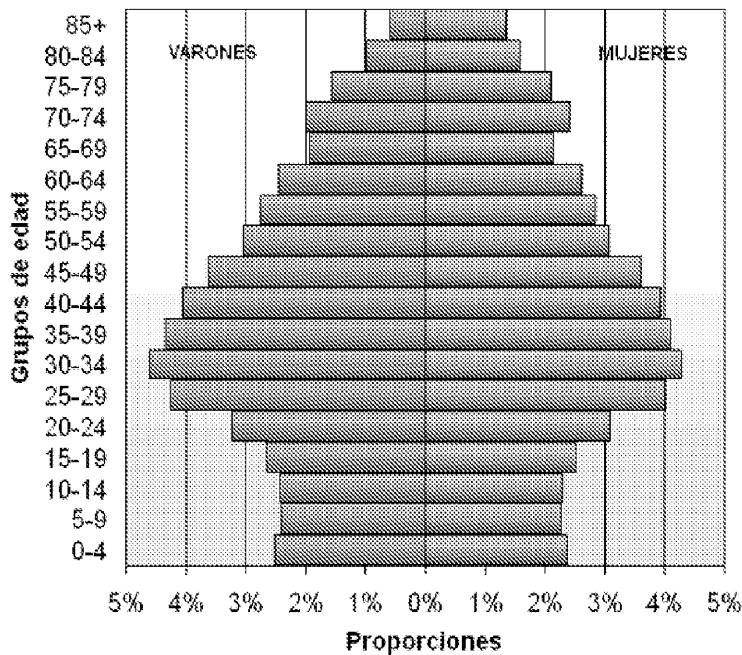
- Diferencias entre ganadería intensiva y extensiva.
- Relación entre vientos y presión atmosférica.

4. Prueba de localización, lectura e interpretación de documentos.

La pirámide de población adjunta representa la estructura de la población de España en 2007. Haga un comentario teniendo en cuenta:

- a) estructura por sexo y edad,
- b) ¿qué forma tiene la pirámide?
- c) ¿Cuáles son las causas de la reducción de la base de la pirámide?
- d) ¿Cuál es la tendencia de la población española, al rejuvenecimiento o al envejecimiento?

Pirámide de población de España, año 2007



Fuente: Instituto Nacional de Estadística. Censo a 1 de enero de 2007

 03100498	 Junio - 2012	Geografía (F.E.)		
		PRUEBA DE ACCESO A LA UNIVERSIDAD		
		Duración: 90min.		MODELO 08
				Hoja: 1 de 2

MODELO: "08"

INSTRUCCIONES GENERALES

El alumno realizará sólo una de las dos opciones propuestas (A o B).
El alumno no podrá utilizar ningún material.
Criterios generales de evaluación:
- En el tema se valorará: el desarrollo teórico, la capacidad de organización y la de síntesis
- En las definiciones: la claridad, la precisión y la brevedad
- En la práctica: el alumno realizará el análisis e interpretación del gráfico o mapa de forma sucinta, siguiendo el esquema que se le proponga o su propio criterio sino se le indica otra cosa.
Criterios específicos de corrección:
La puntuación final será el resultado de la media de los cuatro apartados. Cada uno de éstos se valorará sobre diez (10). Se tendrá muy en cuenta la ortografía, la corrección sintáctica y la presentación del examen.

OPCIÓN A

1. Tema: "El proceso de urbanización en España".

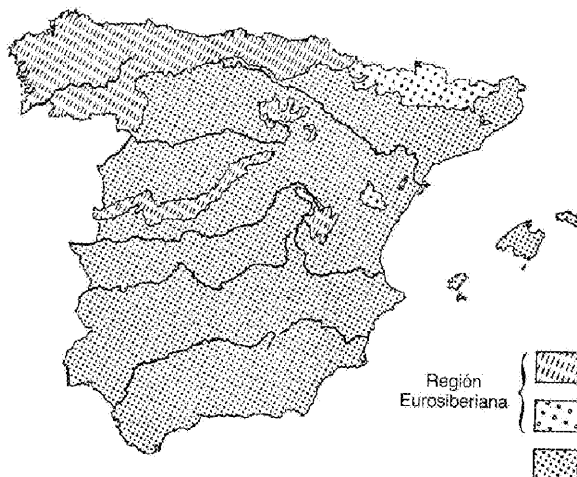
2. Definición de términos geográficos. Defina brevemente los siguientes términos: "bosque perennifolio", "equinoccio", "escala de un mapa", "Éxodo rural", "latitud".

3. Preguntas breves.

- Características del poblamiento disperso.
- Las áreas turísticas de alta densidad en España.

4. Prueba de localización, lectura e interpretación de documentos.

El mapa representa las grandes divisiones biogeográficas de la Península. Identifica en la leyenda los grandes dominios y describe sus características principales.



GRANDES CONJUNTOS BIOGEOGRÁFICOS

 03100498	 Junio - 2012	Geografía (F.E.)		
		PRUEBA DE ACCESO A LA UNIVERSIDAD		
		Duración: 90min.		MODELO 08
				Hoja: 2 de 2

OPCIÓN B

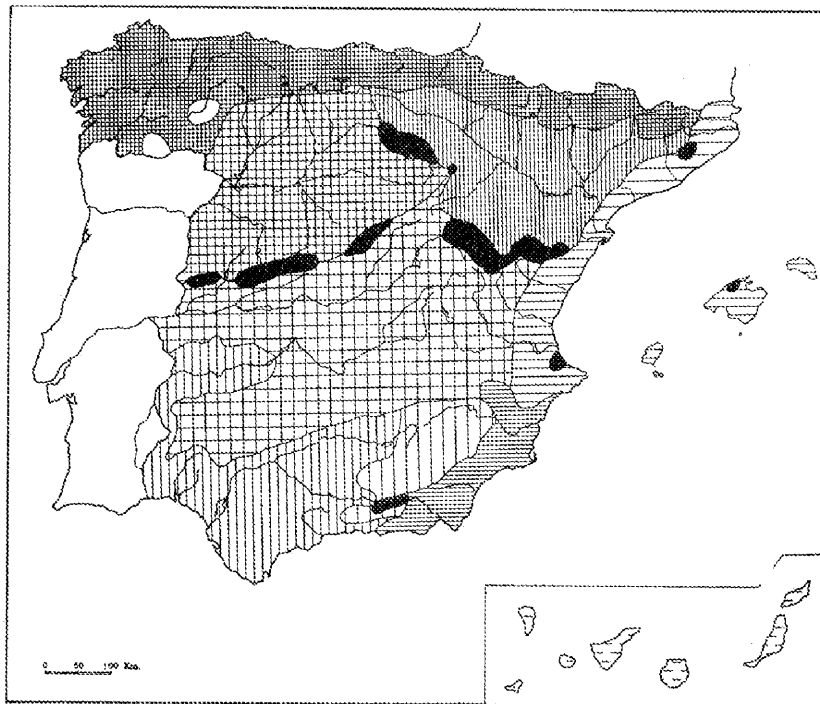
1. Tema: “La actividad agraria en España”.

2. Definición de términos geográficos. Defina brevemente los siguientes términos: “trasvase fluvial”, “escala de un mapa”, “presión atmosférica”, “Padrón municipal de habitantes”, “agricultura de subsistencia”.

3. Preguntas breves.

- Diferencias entre ganadería intensiva y extensiva.
- Principales riesgos naturales de origen geológico en España.

4. Prueba de localización, lectura e interpretación de documentos.



Localice en el mapa los siguientes climas y describa, brevemente, sus principales rasgos.

1. Clima fresco-frío de las llanuras del Duero
2. Clima fresco de las montañas y cuencas ibéricas
3. Clima costero valenciano - balear
4. Clima oceánico
5. Clima cálido-seco de margen tropical